

# 令和4年度 入学試験

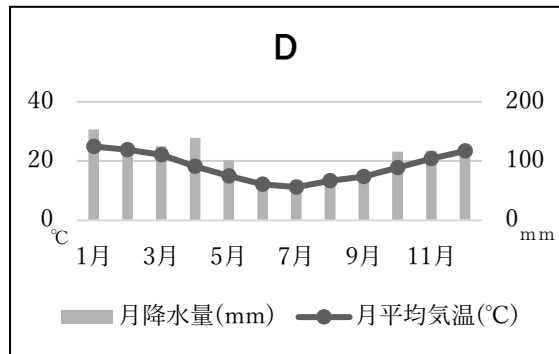
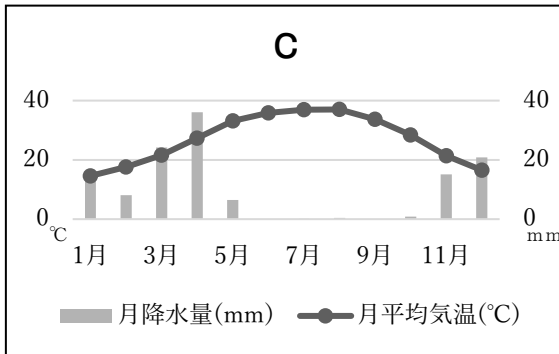
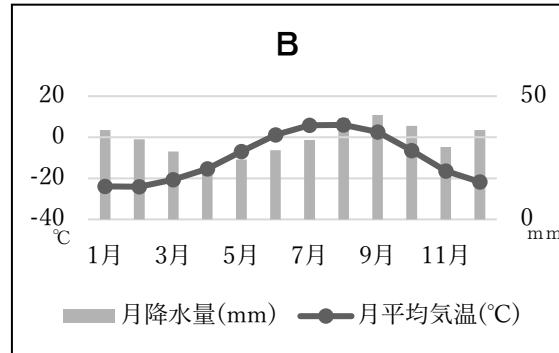
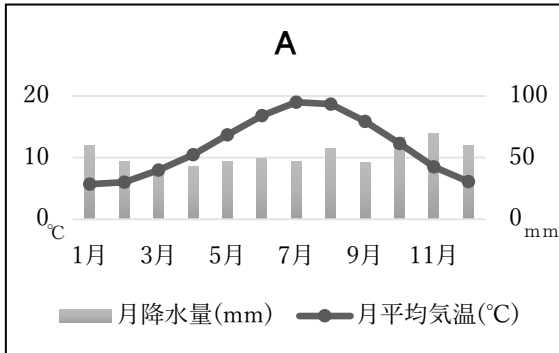
## 社 会

### 注 意

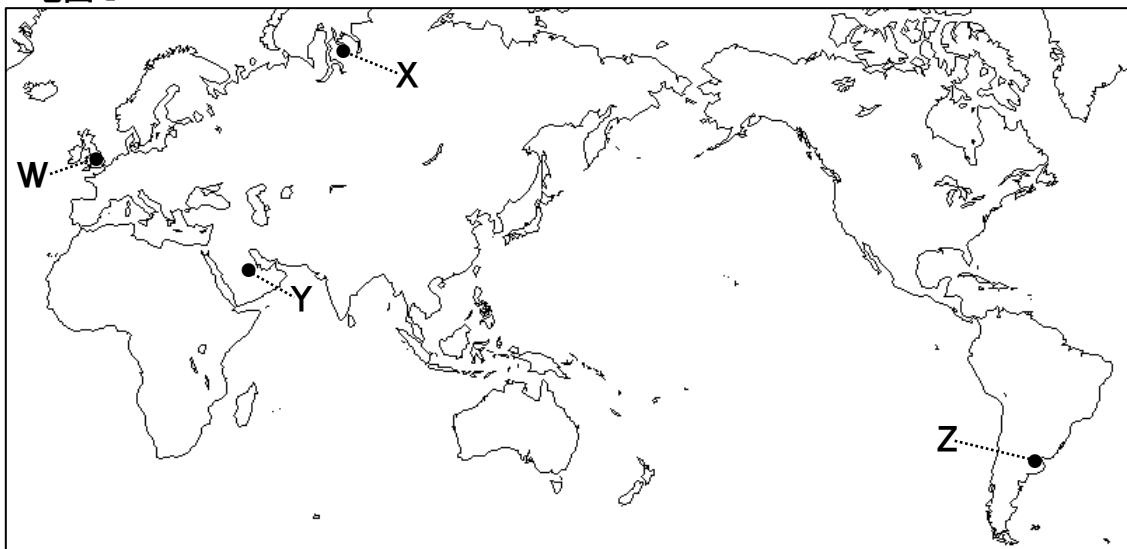
- 1 問題は **1** から **4** までで、**8ページ**にわたって印刷してあります。
- 2 試験時間終了時間は**午前11時10分**です。
- 3 声を出して読むではいけません。
- 4 答えは全て解答用紙にHB又はBの鉛筆（シャープペンシルも可）を使って明確に記入し、解答用紙と問題用紙を提出しなさい。
- 5 答えを直すときは、きれいに消してから、消しくずを残さないようにして、新しい答えを書きなさい。
- 6 **受験番号と氏名**を解答用紙の決められた欄に書きなさい。
- 7 解答用紙は、汚したり、折り曲げたりしてはいけません。

1 次の問に答えよ。

〔問1〕 気象庁がホームページ上で公開している統計をもとに作成したある年の次の雨温図A~Dは、下の地図Iの都市W~Zのいずれかのものである。あとの文章Iにあてはまる都市の雨温図をA~Dから1つ選べ。



地図I



文章I

この都市はオーストラリアよりも北に位置し、北大西洋海流の影響で日本と同じ温帯に属している。また、旧グリニッジ天文台を通る経線は本初子午線として世界の時刻設定の基準となっている。

〔問2〕 日本の人口の変化についての次のUさんとYさんの会話を読み、**A**と**B**にあてはまる語句の組み合わせとして正しいものを、あとの**ア～エ**から1つ選べ。

**Uさん**：今の日本の人口って何人ぐらいなんだろう。

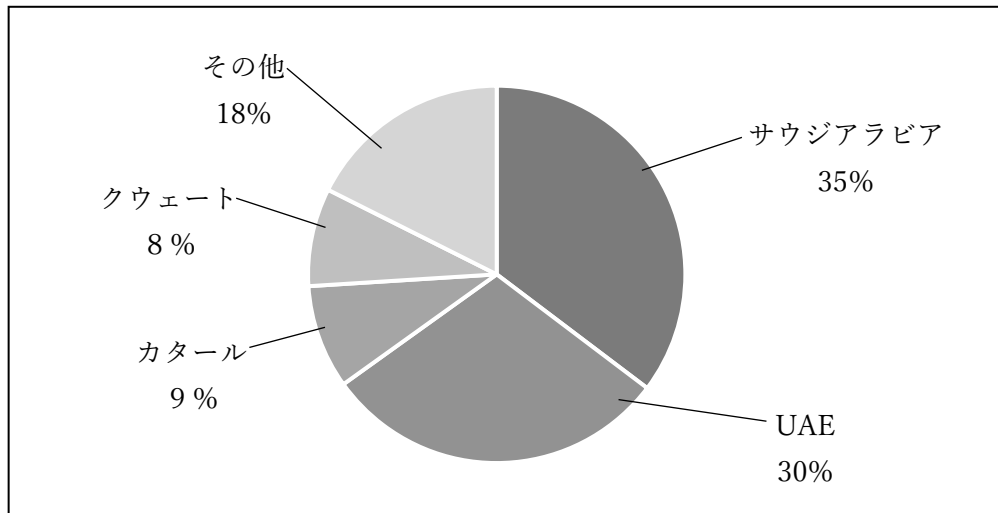
**Yさん**：携帯電話で調べてみよう。2020年だと約**A**人だっけさ。日本って、意外と人口が多いんだね。世界の人口が約78億人だから、70人に1人が日本人ってことだよな。

**Uさん**：でも、これから日本の人口は減っていくみたいだよ。少子高齢化ってきいたことある？この前、社会の授業で習ったんだけど、総人口に占める65歳以上の割合が7%を超えると高齢化社会、14%を超えると高齢社会、21%を超えると超高齢社会と呼ぶんだって。日本の高齢人口って総人口の何割なんだろう。Yさん調べてみてよ。

**Yさん**：まかせて。ええっと、65歳以上の人口割合は・・・約28.7%だよ。ということは、日本は既に**B**なんだね。

- ア** **A**：1.2億 **B**：高齢化社会      **イ** **A**：1.2億 **B**：超高齢社会  
**ウ** **A**：3.3億 **B**：高齢社会      **エ** **A**：3.3億 **B**：超高齢社会

〔問3〕 経済産業省がホームページ上で公開している統計をもとに作成した次の円グラフは、日本が輸入している**鉱産資源X**のある年の輸入先の割合を表したものである。**鉱産資源X**をあとの**ア～エ**より1つ選べ。



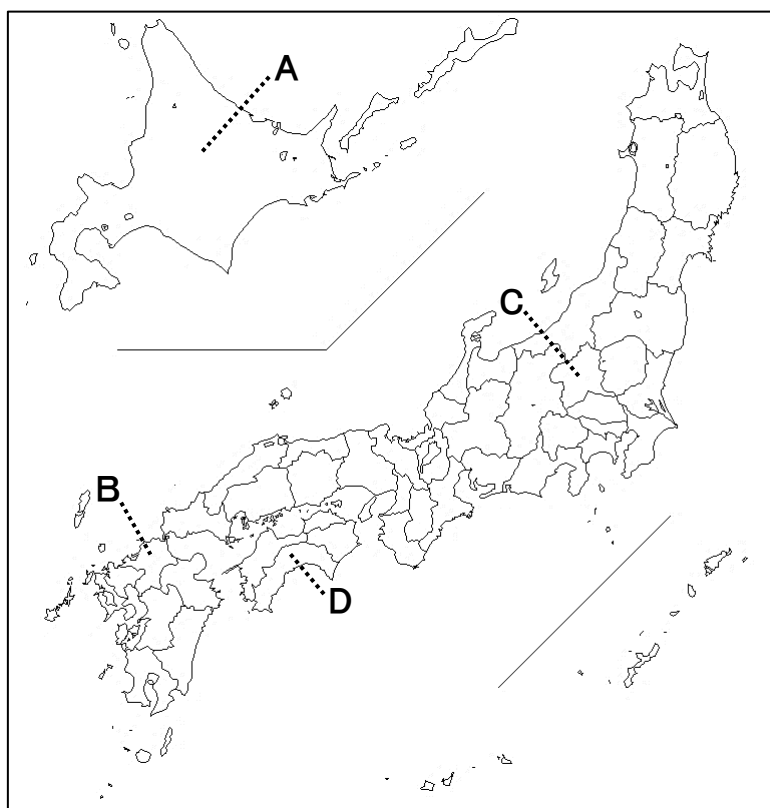
- ア** 石炭      **イ** ボーキサイト      **ウ** 原油      **エ** 鉄鉱石

〔問 4〕 農林水産省がホームページ上で公開している統計をもとに作成した次の日本の食料自給率の推移を示した表を見て、**A**～**D**にあてはまる農産物の組み合わせとして正しいものをあとの**ア～エ**より1つ選べ

種類 \ 年	1970年	1980年	1990年	2000年	2012年
米	106%	100%	100%	95%	96%
<b>A</b>	99%	97%	91%	81%	78%
牛乳・乳製品	89%	82%	78%	68%	65%
<b>B</b>	89%	81%	70%	52%	55%
くだもの	84%	81%	63%	44%	38%
<b>C</b>	9%	10%	15%	11%	12%
<b>D</b>	4%	4%	5%	5%	8%

- |          |               |               |               |               |
|----------|---------------|---------------|---------------|---------------|
| <b>ア</b> | <b>A</b> : 野菜 | <b>B</b> : 小麦 | <b>C</b> : 肉類 | <b>D</b> : 大豆 |
| <b>イ</b> | <b>A</b> : 野菜 | <b>B</b> : 肉類 | <b>C</b> : 小麦 | <b>D</b> : 大豆 |
| <b>ウ</b> | <b>A</b> : 肉類 | <b>B</b> : 小麦 | <b>C</b> : 大豆 | <b>D</b> : 野菜 |
| <b>エ</b> | <b>A</b> : 肉類 | <b>B</b> : 大豆 | <b>C</b> : 小麦 | <b>D</b> : 野菜 |

〔問 5〕 次の地図中の**A**～**D**のうち、都道府県名と県庁所在地名が異なる都道府県はいくつあるか。あとの**ア～エ**より1つ選べ。



- ア** 1つ      **イ** 2つ      **ウ** 3つ      **エ** 4つ

2 次の資料Ⅰ～Ⅳを読み、あとの問に答えよ。

### 資料Ⅰ

みなの方よく聞きなさい。これが最後の言葉である。亡き頼朝公が朝廷の敵を倒し、幕府を開いてから、官位や土地など、その御恩は山より高く海よりも深い。この御恩にむくいる心が浅くてよいはずがない。…名誉を失いたくない者は、敵をうち、幕府を守りなさい。

### 資料Ⅱ

**A** は、もともと男性の王が治めていたが、倭国が乱れ、何年も争い合うようになると、女性の卑弥呼を王とした。卑弥呼は鬼道(まじない)によって人々をうまく従えた。…卑弥呼の宮殿には物見やぐらや柵が嚴重にめぐらされ、いつも兵士が警備していた。

### 資料Ⅲ

一に曰く、和を以て貴しとなし、さからう(争う)ことなきを宗となせ。  
二に曰く、あつく三宝を敬え。三宝とは、仏・法(仏の教え)・僧なり。  
三に曰く、詔を承りては必ず謹め。

### 資料Ⅳ

第一条 大日本帝国ハ万世一系ノ **B** 之ヲ統治ス  
第三条 **B** ハ神聖ニシテ侵スヘカラス  
第十一条 **B** ハ陸海軍ヲ統帥ス

〔問1〕 資料Ⅰは、鎌倉時代に後鳥羽上皇が幕府に反旗を翻したときの北条政子による演説の一部である。この反乱の名称をア～エより1つ選べ。

ア 壬申の乱      イ 保元の乱      ウ 承久の乱      エ 応仁の乱

〔問2〕 資料Ⅱの **A** にあてはまる語句をア～エより1つ選べ。

ア 奴国      イ 対馬国      ウ 邪馬台国      エ 伊都国

〔問3〕 資料Ⅲは、7世紀に役人に向けて示した憲法十七条の一部である。制定したとされる人物をア～エより1つ選べ。

ア 聖徳太子      イ 桓武天皇      ウ 藤原道長      エ 平清盛

〔問4〕 資料Ⅳは、明治時代に制定された大日本帝国憲法の条文の一部である。 **B** にあてはまる語句をア～エより1つ選べ。

ア 国民      イ 天皇      ウ 将軍      エ 摂政

〔問5〕 資料Ⅰ～Ⅳを年代の古い順に並びかえよ。

3 Yさんのクラスでは、公民的分野の授業で班ごとに興味のあるテーマを決めて発表をおこなった。各班のテーマをまとめた次の表を見てあとの間に答えよ。

班	1班	2班	3班
テーマ	効率と <b>P</b> について	①憲法改正について	②日本の家族構成について
班	4班	5班	
テーマ	③物価について	④SDGs について	

〔問1〕 次のUさん・Yさん・Hさんの会話と音楽室の使用スケジュール案を参考にして、**P** にあてはまる語句をあとのア～エより1つ選べ。

Uさん： 合唱コンクールまでの音楽室の使用スケジュール案をつくってみたよ。1組はやる気はあるけれど朝が弱い人が多いから放課後練習を3回いれさせてもらったよ。

時間帯〔使用可能な時間〕	火曜日	水曜日	木曜日	金曜日
朝〔20分〕	2組	3組	2組	合唱コンクール
昼休み〔30分〕	3組	2組	3組	
放課後〔60分〕	1組	1組	1組	

Yさん： 2組も朝が弱い人が多いから不安だな。それに練習時間も放課後に比べるとだいぶ短くなってしまふね。

Hさん： 1組が3回も放課後に使用するの少し問題があるんじゃないかな。このあいの社会の授業で、こういった場合の解決方法を学習したよね。

Uさん： たしかにそうだね。では、次の案でどうだろう。

時間帯〔使用可能な時間〕	火曜日	水曜日	木曜日	金曜日
朝〔20分〕	2組	3組	1組	合唱コンクール
昼休み〔30分〕	3組	1組	2組	
放課後〔60分〕	1組	2組	3組	

Hさん： この案はとても効率的だね。

Yさん： すべてのクラスがそれぞれの時間帯で1回ずつ練習できるからフェアだよ。このスケジュールでいこう。

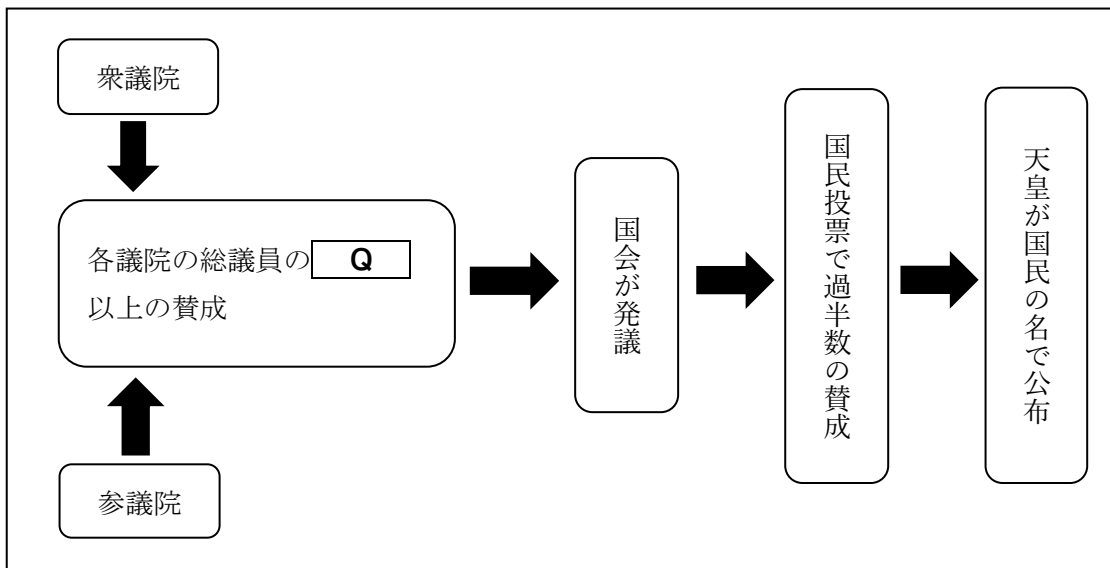
ア 権利

イ 義務

ウ 公正

エ 責任

〔問 2〕 日本における①憲法改正の流れを表した次の図の **Q** にあてはまる語句を  
あとの**ア～エ**より1つ選べ。



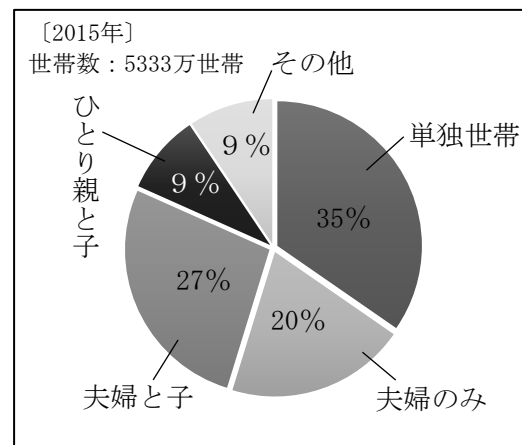
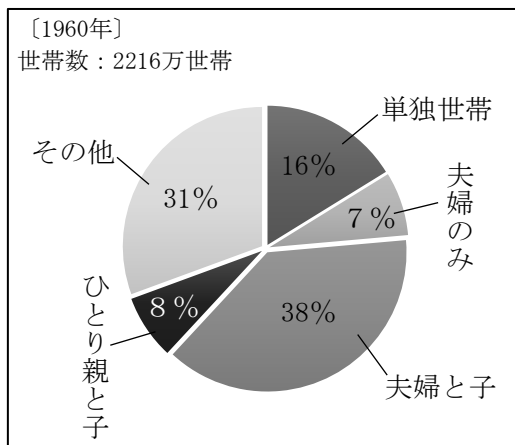
**ア** 1/2

**イ** 1/4

**ウ** 2/3

**エ** 3/4

〔問 3〕 総務省がホームページ上で公開している統計をもとに作成した、②日本の家族構成の割合の変化を表した次の各グラフから読み取れる内容として正しいものを、  
あとの**ア～エ**より1つ選べ。



- ア** 1960年から2015年にかけて、夫婦のみの家庭の割合はほぼ変化していない。
- イ** 1960年から2015年にかけて、夫婦と子の家庭の割合は2割以上増加している。
- ウ** 1960年から2015年にかけて、ひとり親と子の割合は5割以上減少している。
- エ** 1960年から2015年にかけて、単独世帯の割合は約2倍となっている。

〔問4〕 次の③物価に関するUさんとYさんの会話を読み、Aにあてはまる語句を  
あとのア～エより1つ選べ。

**Uさん**： 最近は天気が安定しないせいか、キャベツが全然獲れていないみたいだよ。ほ  
ら、キャベツの値段が100円からAになっている。予算も少ないし、レタ  
スで代用しよう。

**Yさん**： レタスはたくさん獲れているみたいだね。このあいだは100円だったのに、今日  
は80円だよ。今日はレタスにしておこうか。

ア 50円                      イ 80円                      ウ 100円                      エ 120円

〔問5〕 ④SDGsとは国際連合が掲げる持続可能な開発目標の略称である。次の17の目標  
から1つを選択し、その目標を達成するためにあなたが日常生活の中で心がけるべき  
行動を1つ答えよ。





4 昨年(2020年)に日本や世界で起きた出来事をまとめた次の表を見て、あとの問いに答えよ。

月	出来事
1月	アメリカの大統領選挙で勝利した民主党の <b>A</b> 氏が大統領に就任した。
2月	ミャンマーでクーデターが起き、国軍が全権を掌握した。
3月	東日本大震災の発生から10年が経過した。
7月	① <u>夏季オリンピック</u> が開幕した。
	新型コロナウイルス感染症の拡大防止を目的として、全国に4度目の <b>B</b> 発出された。
8月	タリバン勢力がアフガニスタンを制圧した。
9月	第100代内閣総理大臣に自民党総裁の <b>C</b> 氏が就任した。
10月	第49回② <u>衆議院議員総選挙</u> が実施された。

〔問1〕 **A** にあてはまる人物を、ア～エから1つ選べ。

ア バイデン                      イ トランプ                      ウ オバマ                      エ ケネディ

〔問2〕 ①夏季オリンピックについて、日本における夏季・冬季オリンピックの開催都市として正しくないものを、ア～エから1つ選べ。

ア 札幌                      イ 長野                      ウ 東京                      エ 福岡

〔問3〕 **B** にあてはまる語句を、漢字6字で答えよ。

〔問4〕 **C** にあてはまる人物を、ア～エから1つ選べ。

ア 野田聖子                      イ 岸田文雄                      ウ 高市早苗                      エ 河野太郎

〔問5〕 ②衆議院議員総選挙に関して、国政選挙において有権者は満何歳以上か。数字で答えよ。