

令和3年度 入学試験

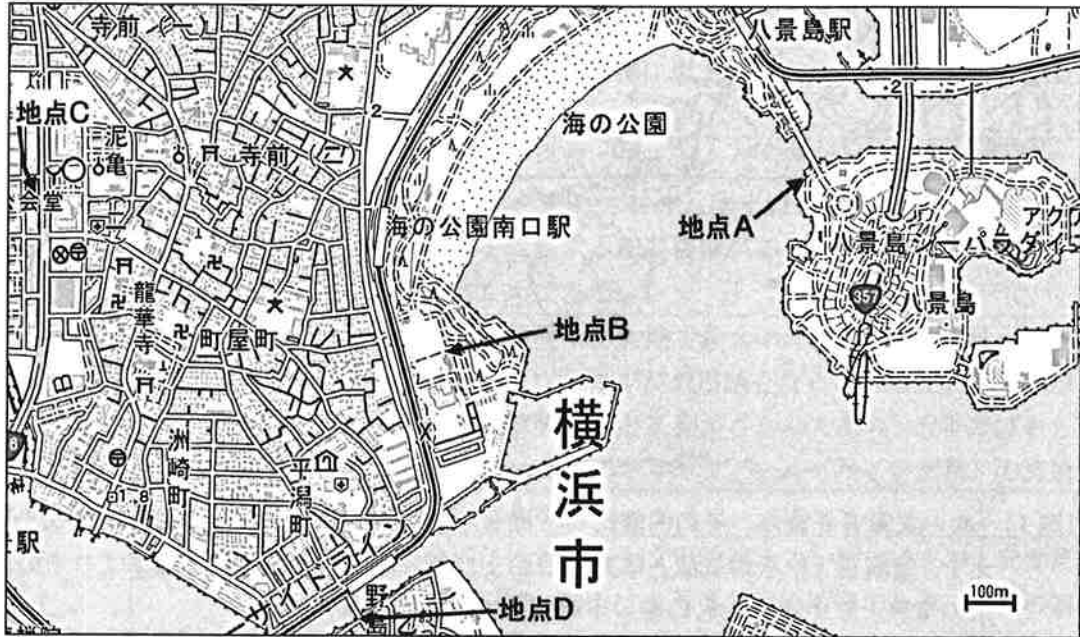
社 会

注 意

- 1 問題は**1**から**5**までで、**8ページ**にわたって印刷してあります。
- 2 試験時間終了時間は**午前11時10分**です。
- 3 声を出して読むはいけません。
- 4 答えは全て解答用紙にHB又はBの鉛筆（シャープペンシルも可）を使って明確に記入し、解答用紙と問題用紙を提出しなさい。
- 5 答えを直すときは、きれいに消してから、消しくずを残さないようにして、新しい答えを書きなさい。
- 6 **受験番号と氏名**を解答用紙の決められた欄に書きなさい。
- 7 解答用紙は、汚したり、折り曲げたりしてはいけません。

1 次の問に答えよ。

〔問1〕 次の地形図は、国土地理院のホームページ上で利用できる地図・空中写真閲覧サービスで検索した、神奈川県横浜市の一区画を抜粋したものである。地点A～Dから撮影した写真として適切なものを、補足説明文を参考にしようえて、下のア～エよりそれぞれ1つ選べ。



ア



高架橋の上には、第三セクターである鉄道会社の線路や駅が存在する。

イ



向かって西側には、海を挟んで砂浜が広がっている。

ウ



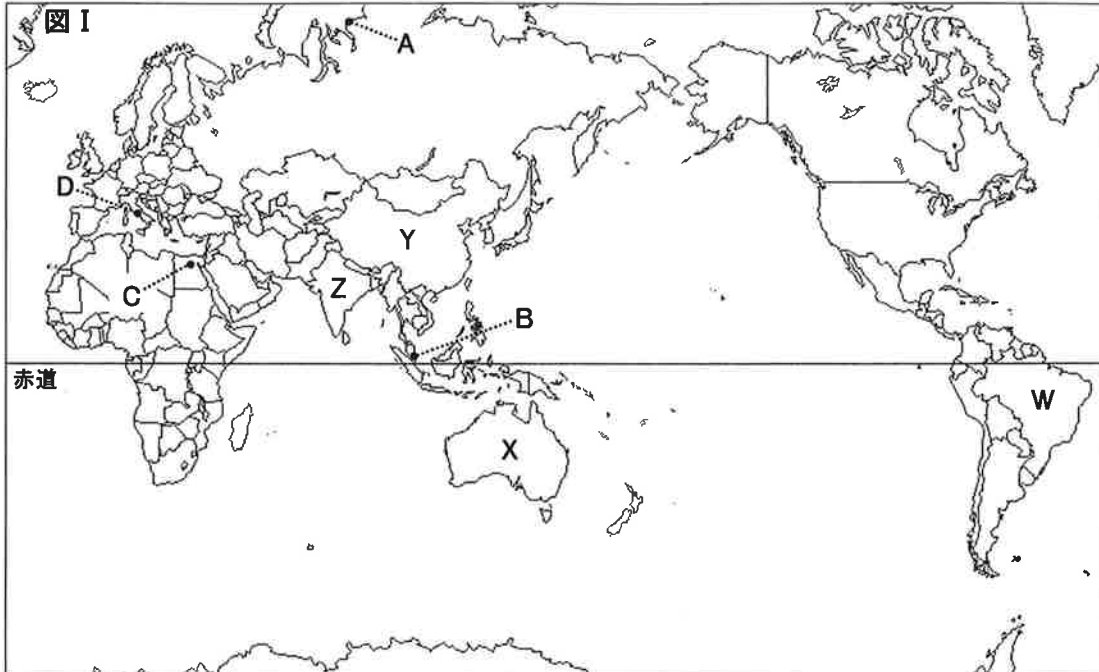
駐車場の周辺では、多くの針葉樹を確認することができる。

エ



広い国道沿いには、消防署や交番、郵便局が並立している。

2 次の各問に答えよ。

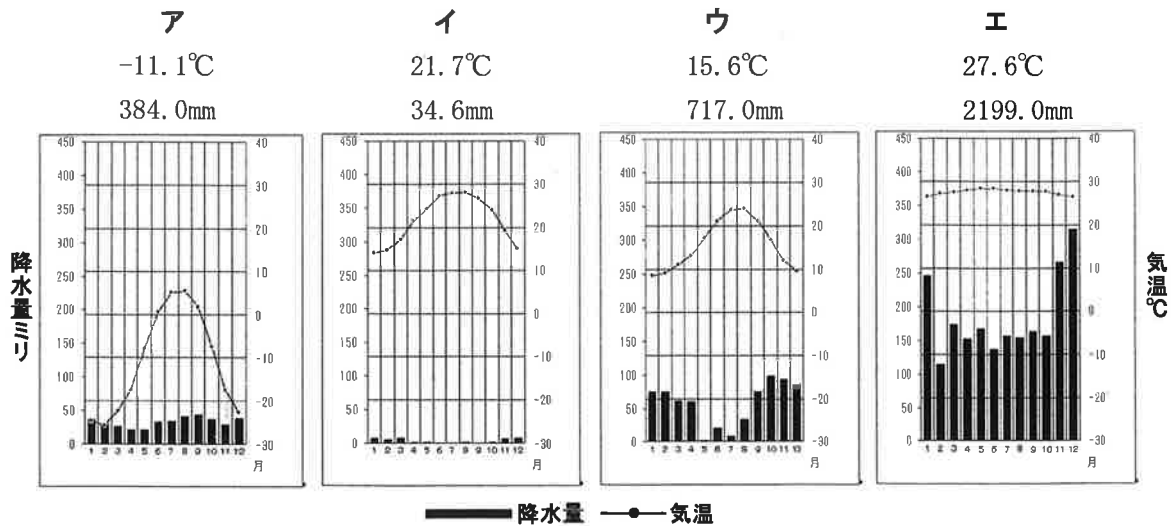


〔問1〕 次の**文章Ⅱ**を読み、その内容に当てはまる都市を上図の**A~D**より1つ選んだうえで、**資料Ⅲ**『年平均気温と年降水量および各月の平均気温と降水量』よりその都市の情報として適切なものを、下の**ア~エ**より1つ選べ。

文章Ⅱ

中部の沿岸部に位置する都市で、7つの丘の上に広がっており、比較的起伏の激しい地形で一年中暖かい気候である。経済的、政治的及び文化的な中枢機能が集積しており、都市の中に大きき44ヘクタール、人口1000人の小さな国がある。

資料Ⅲ 『年平均気温と年降水量および各月の平均気温と降水量』



[問2] 次の表の**ア～エ**の文章は、**図I**の**W～Z**のいずれかの国のある年の鉄鉱石の採掘量、人口、国土と都市の様子についてまとめたものである。各国の記述として適切なものを、下の**ア～エ**よりそれぞれ1つ選べ。

	採掘量 (万トン)	国土と都市の様子
	人口 (万人)	
ア	23,200	この国は現在、世界第1位の人口で、国土は世界第3位の面積である。経済面では市場経済を導入し近年の経済成長は著しく、鉱産資源に恵まれており、その中には希少金属も含まれている。
	143,378.4	
イ	48,600	この国は、多数の島々からなる連邦立憲君主制国家で、多文化政策を進めており、国土は世界第6位の面積である。石炭を代表する鉱産資源があり、羊毛、肉類、小麦の生産もさかんである。
	2,520.3	
ウ	25,700	この国が位置する大陸で最大の面積で、国土は世界第5位であり、ポルトガルが公用語となっている。天然資源が豊富で自動車製造など工業がさかんであり、近年ではさとうきびからつくるバイオエタノール(バイオ燃料)の流通がさかんである。
	21,105	
エ	9,600	この国には世界四大文明に遡る古い歴史があり、世界第2位の人口で、国土は世界第7位の面積である。独特の制度に基づく階級社会が存続しているが、近年では情報通信技術産業が著しく発展しており、経済成長が目覚ましい。
	136,641.8	

[問3] ある年のヨーロッパのじゃがいも・小麦・ぶどう・オリーブ栽培の北限を示した次の**図IV**を見たらうで、ある国の農業について述べた**文章V**を読み、当てはまる国として適切なものを、下の**ア～エ**より1つ選べ。

図IV



文章V

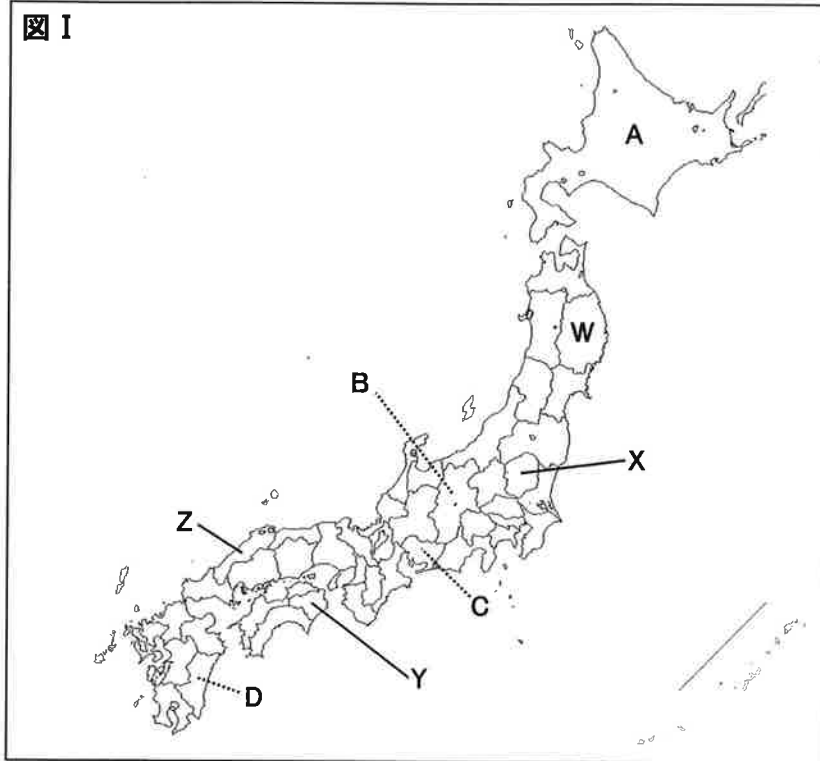
国土の57%が農用地であるこの国は、西欧最大の農業国で、EU全体の4分の1の農産物を生産している。小麦輸出では、世界第2位を誇り、小麦の栽培と家畜の飼育を組み合わせた農業がさかんである。

じゃがいも栽培の北限 - - - - -
 小麦栽培の北限
 ぶどう栽培の北限 _____
 オリーブ栽培の北限 _____

ア フランス
ウ ロシア

イ ノルウェー
エ ギリシャ

3 次の各問に答えよ。



[問 1] 次の表の**ア**～**エ**の文章は、**図 I**の**A**～**D**のいずれかの、特産品と農業の様子についてまとめたものである。各道県の記述として適切なものを、それぞれ1つ選べ。

	国土と都市の様子
ア	温暖な気候を生かして栽培されたキャベツが有名である。花き類では菊の生産が国内の30%以上を占めている。近年では先進的技術を導入した大型施設の設置が進み、新しい農業地帯を形成している。
イ	広大な牧草地をいかした乳用牛の飼育が有名である。生乳の全国の市場占有率は50%以上であり、国内の半数以上のたまねぎはこの寒い地域で生産され、アメリカ合衆国に次ぎ世界第2位の生産量となっている。
ウ	平野をいかして栽培されたキュウリが有名である。露地での栽培よりも成長・収穫・出荷を早くする栽培を行い、冬でも夏野菜を収穫することで通常は不可能な時期に出荷し、商品としての価値を高めている。
エ	高原をいかして栽培されたレタスが有名である。生育を抑制することで、自然環境よりも遅い時期に作物を収穫しており、夏でも秋冬野菜をつくったり、冬に秋野菜をつくったりし、商品としての価値を高めている。

〔問2〕 次の**文章Ⅱ**を読み、その内容に当てはまる県として適切なものを、**図Ⅰ**の**W～Z**より1つ選べ。

文章Ⅱ

太平洋に面しており、海面上昇や地盤沈下を繰り返して形成された、ギザギザした海岸線が有名である。広大で肥沃な土地を持ち、我が国の面積の約4%を占めている。

伝統工芸品である南部鉄器は古くから親しまれており、近年では、外国に向けて輸出されるほどで、世界的なブランドとして認知されている。

4 次の文章を読み、各問に答えよ。

桜は我が国を代表する花であり、日本人に古くから親しまれてきた。

最も古い桜を思わせる記載は最古の歴史書とされる『①古事記』に書かれているコノハナサクヤヒメという女神だ。この女神は富士山の守護神であり、とても美しい姿をしている半面、神としては寿命が短かったとされる。

日本最古の和歌集とされる『②万葉集』も桜が登場する作品である。この頃の日本は中国文化の影響が強く、単に「花」といえば梅を指していたが、国風文化が育つに連れて徐々に桜の人気が高まっていった。

当初は貴族だけが花見を楽しんでいたが、鎌倉時代には徐々に武士や庶民にも広がっていく。吉田兼好の著書『徒然草』には「貴族は桜を上品に楽しむが、田舎者は桜の木の下ではしゃいでいる」といった記述も見られる。

1598年4月20日に京都の醍醐で催された花見では、③豊臣秀吉が醍醐寺に700本の桜を植えさせ、約1300人が招待された。日本各地から名産の食べ物が持ち寄られたが、これが現代の花見の始まりだといわれる。

現代まで続く「桜を愛でる文化」を今後も大切にしていきたいと思う。

〔問1〕 ①古事記が成立した時代の記述として適切なものを、次のア～エより1つ選べ。

- ア 律令体制の下で役人となった貴族が都に集まって住むようになったことで、平城京が作られた。
- イ 中国や朝鮮半島などから北九州へ渡来した人々から稲作が伝わったことで、米の保存・煮たきに適した土器や稲を蓄えるための高床倉庫が作られた。
- ウ 狩りや漁・採集で得た食料の保存や煮たきのために土器を使うようになり、この頃の土器は表面に縄目の文様がつけられていることが多い。
- エ 3代将軍足利義満は南北朝の合一や有力守護大名を弾圧することで幕府権力を確立した一方で、明との国交を回復し、日明貿易に力を入れた。

〔問2〕 下は、②万葉集に収録されている歌のひとつで、当時、九州の守りを命じられた【 X 】がよんだ歌である。次の歌を見たとえで、【 X 】に当てはまる語句として適切なものを、下のア～エより1つ選べ。

からころも すそにとりつき 泣く子らを おきてぞ来ぬや 母なしにして

ア 摂政

イ 守護

ウ 国司

エ 防人

〔問3〕 ③豊臣秀吉に関する記述として適切なものを、次のア～エより1つ選べ。

- ア 堺の豪商で、茶の湯の作法を定めて、禅宗の精神や独自の方法でわび茶を大成した。織田信長に茶の湯の作法を指導し、東南アジアとの貿易で輸入された茶つぼなどの目利きをしたことでも知られている。
- イ 尾張の百姓出身で、織田信長に仕えて出世した。明智光秀を倒し、信長の後継者として大阪城を拠点として全国を統一した。また刀狩令や検地を徹底して行うことによって、武士と百姓の身分を区別する兵農分離を進めた。
- ウ 下総の武士で、土地をめぐる争いで伯父に勝利した。その後、常陸（茨城県）や下野（栃木県）などに攻め込み、国司を追い出した。そこで自ら「新皇」を名乗り、新しい国家づくりをしたが、50日余りで朝廷軍にうたれた。
- エ 学問に秀で、その能力を天皇にかわれ、都で右大臣の地位を得た。しかし、藤原氏に無実の罪をきせられ、大宰府においやられてしまった。彼の死後、天変地異が続いたため、北野天満宮にまつられ、今でも学問や芸能の神様として信仰されている。

5 次の年表を見て、各問に答えよ。

西暦(年)	できごと
1457	太田道灌により現在の江戸城の基礎がつくられる。……………A
1603	徳川家康が江戸に幕府を開き、その後江戸城の拡張工事を開始する。
1657	明暦の大火により江戸城の西の丸以外が焼失する。
1868	江戸城が無血開城となり、皇居となる。……………B
1923	関東大震災で大手門、半蔵門などが焼失する。……………C
1945	空襲で大手門が焼失する。

〔問1〕 Aより10年後に、京都において、室町幕府8代将軍足利義政の跡継ぎをめぐって起こった11年間にも及ぶ戦乱として適切なものを、次のア～エより1つ選べ。

- ア 壬申の乱 イ 承久の乱 ウ 応仁の乱 エ 保元の乱

[問2] 次の文章Ⅱは、B以降の時代に関する先生とNさんの会話である。XとY
にあてはまる語句の組合せとして適切なものを、下のA～Eより1つ選べ。

文章Ⅱ

先生：明治時代になると様々な改革を行いますが、四民平等により特権を失った士族や徴兵令や学制によって働き手をとられた農民が不満を持ちました。

Nさん：不満を持った士族におされて1877年に鹿児島で反乱を起こしたのが上野公園にも銅像があるXですね？

先生：その通りです。しかし、徴兵令で平民を集めて訓練した政府軍が勝利したためその後武力による反乱はなくなりました。では、このあとはどのようにして政府に自分たちの意見を伝えたのでしょうか。

Nさん：武力ではかなわないため、言論による政府批判が中心となります。藩閥政治をやめ、憲法制定や国会開設をめざすYを展開します。

先生：よくできました。

- A X-西郷隆盛 Y-護憲運動
- I X-西郷隆盛 Y-自由民権運動
- U X-徳川慶喜 Y-護憲運動
- E X-徳川慶喜 Y-自由民権運動

[問3] Cの時期の社会の様子について述べた文として適切なものを、次のA～Eより1つ選べ。

- A 新橋・横浜間に鉄道が開通し、大都市と港が結ばれ、交通網が整備された。
- I 学制を公布して、満6歳以上の子どもに教育を受けさせることを国民の義務とし、全国各地に小学校をつくった。
- U 暦が太陰暦から太陽暦へと変更され、1日24時間、1週間を7日、日曜日を休日とすることが定められた。
- E バスの車掌やタイピスト、電話交換手など、「職業婦人」として活躍する女性が増えた。

令和3年度 入学試験 社会 解答用紙

1	〔問1〕	地点A		地点B	
		地点C		地点D	

2	〔問1〕	都市		情報	
	〔問2〕	W		X	
		Y		Z	
〔問3〕					

3	〔問1〕	A		B	
		C		D	
	〔問2〕				

4	〔問1〕		〔問2〕		〔問3〕	
---	------	--	------	--	------	--

5	〔問1〕		〔問2〕		〔問3〕	
---	------	--	------	--	------	--

受験番号

氏名 _____

令和3年度 入学試験 社会 模範解答

1	〔問1〕	地点A	イ	地点B	ウ	完全解答
		地点C	エ	地点D	ア	

2	〔問1〕	都市	D	情報	ウ	完全解答
	〔問2〕	W	ウ	X	イ	完全解答
		Y	ア	Z	エ	
〔問3〕	ア					

4点
5点

3	〔問1〕	A	イ	B	エ	完全解答
		C	ア	D	ウ	
	〔問2〕	W				

4	〔問1〕	ア	〔問2〕	エ	〔問3〕	イ
---	------	---	------	---	------	---

5	〔問1〕	ウ	〔問2〕	イ	〔問3〕	エ
---	------	---	------	---	------	---